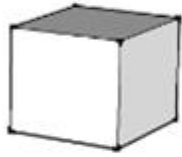
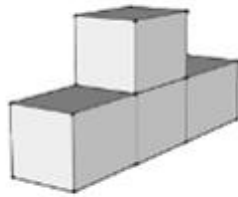


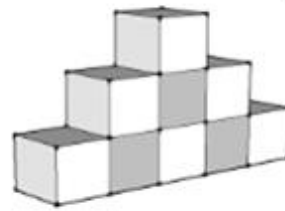
Défi - cubes



Etape 1



Etape 2



Etape 3

**Question : Combien y a-t-il de cubes à l'étape 4 ?**

Ecrivez votre recherche et votre réponse dans la case en-dessous.

Expliquez votre méthode au dos de la feuille.

**Votre recherche et votre réponse**

**Expliquez votre méthode**