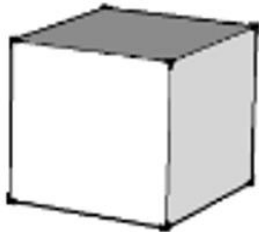


DEFI : LES CUBES

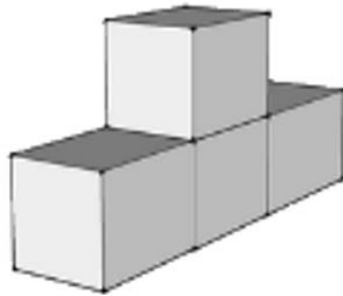
niveau 4

Objectif : « Trouver une méthode pour dire le nombre de cubes qu'il faut en fonction de la pyramide qu'on veut construire. »

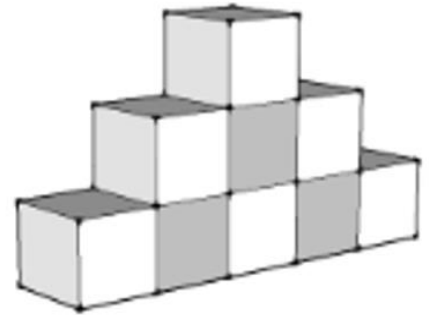
Avec des cubes, je construis des pyramides selon le modèle ci-dessous.



Etape 1



Etape 2



Etape 3

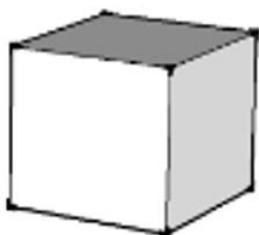
Essaie de trouver une formule mathématique qui exprime le nombre de cubes nécessaires pour n'importe quelle pyramide.

DEFI : LES CUBES

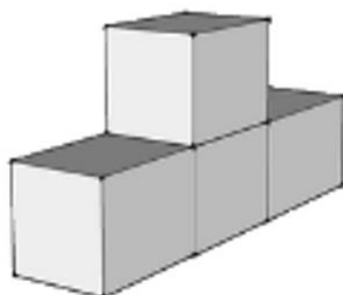
niveau 4

Objectif : « Trouver une méthode pour dire le nombre de cubes qu'il faut en fonction de la pyramide qu'on veut construire. »

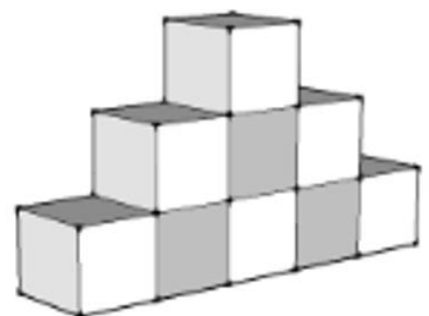
Avec des cubes, je construis des pyramides selon le modèle ci-dessous.



Etape 1



Etape 2



Etape 3

Essaie de trouver une formule mathématique qui exprime le nombre de cubes nécessaires pour n'importe quelle pyramide.